

【練習 3】

(1) 次の数を正の数または、負の数を用いて答えなさい。

①1200 円の収入を +1200 円としたとき、700 円の支出

②体重 5kg の増加を +5kg としたとき、3kg の減量

③ある地点から西に 10km の地点を -10km と表すとき、東に 7.5 km の地点

④階段を 10 段上がることを +10 段とするとき、20 段下がること

(2) 去年 4 月の小国の平均気温は 10°C でした。今年の 11 日から 15 日までの気温は下の表のとおりです。表の空欄を埋めてみましょう。

日にち	11 日	12 日	13 日	14 日	15 日
気温 ($^{\circ}\text{C}$)	12	7	9	15	4
平均気温 [10°C] との差 ($^{\circ}\text{C}$)	+2				

【練習 4】

[] 内のことばを使って、次のことを表しなさい。

①4 個少ない [多い]

②10cm 長い [短い]

③12kg 重い [軽い]

④450 円足りない [余る]

⑤15cm 高い [低い]

⑥2000 円の損失 [利益]

【練習 5】

(1) 次の数の絶対値を答えなさい。

① $+4$

② -6

③ $+2.5$

④ $-\frac{3}{4}$

(2) 絶対値が 1.5 より小さい整数はいくつありますか

【練習 6】

(1) 次の数の大小を、不等号 ($<$ 、 $>$) を用いて表しなさい。

① $+2$ 、 $+5$

② -1 、 $+6$

③ $+2$ 、 -5

④ -10 、 $+1$

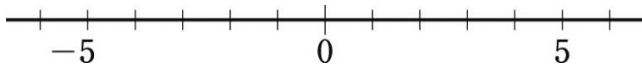
⑤ -2 、 -9

⑥ -5 、 -10

【練習 7】

(1) 数直線を使って、次の数を求めなさい。

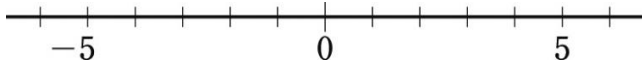
① 2 より 3 大きい数



② -3 より 2 大きい数



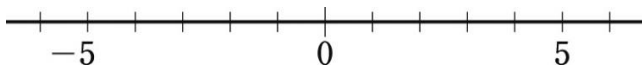
③ 4 より 6 小さい数



④ -2 より 3 小さい数



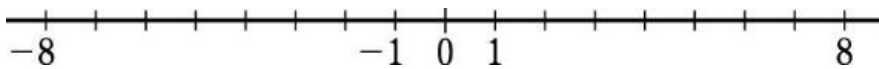
⑤ -2 より -6 小さい数



⑥ 6 より -8 大きい数



⑦ -7 より -10 小さい数



⑧ -1 より -6 大きい数

